

Miejsce  
na naklejkę  
z kodem szkoły

dysleksja

MIN-R1A1P-052

# EGZAMIN MATURALNY Z INFORMATYKI

Arkusz I

POZIOM ROZSZERZONY

Czas pracy 90 minut

ARKUSZ I

MAJ  
ROK 2005

## Instrukcja dla zdającego

1. Sprawdź, czy arkusz egzaminacyjny zawiera 10 stron. Ewentualny brak zgłoś przewodniczącemu zespołu nadzorującego egzamin.
2. Rozwiązania i odpowiedzi zamieść w miejscu na to przeznaczonym.
3. Pisz czytelnie. Używaj długopisu/pióra tylko z czarnym tuszem/atramentem.
4. Nie używaj korektora.
5. Błędne zapisy wyraźnie przekreśl.
6. Pamiętaj, że zapisy w brudnopisie nie podlegają ocenie.
7. Wypełnij tę część karty odpowiedzi, którą koduje zdający. Nie wpisuj żadnych znaków w części przeznaczonej dla egzaminatora.
8. Na karcie odpowiedzi wpisz swoją datę urodzenia i PESEL. Zamaluj ■ pola odpowiadające cyfrom numeru PESEL. Błędne zaznaczenie otocz kółkiem ⊙ i zaznacz właściwe.

*Życzymy powodzenia!*

Za rozwiązanie  
wszystkich zadań  
można otrzymać  
łącznie  
**40 punktów**

Wypełnia zdający przed  
rozpoczęciem pracy

--	--	--	--	--	--	--	--	--	--

PESEL ZDAJĄCEGO


tylko  
OKE Kraków,  
OKE Wrocław

--	--	--


KOD  
ZDAJĄCEGO



Podaj wzór rekurencyjny na różnicę  $r_n = l_n - l_{n-1}$  dla  $n > 0$ :



b) Podaj algorytm ze specyfikacją (w postaci listy kroków, schematu blokowego lub w języku programowania), który dla danej liczby  $\varepsilon$  ( $\varepsilon > 0$ ) oblicza przybliżoną wartość  $\ln 2$ , sumując jak najmniej wyrazów we wzorze podanym w treści zadania, aby różnica między dwoma ostatnimi przybliżeniami była mniejsza niż  $\varepsilon$ .




Punktacja:

Część zadania	Maks.
a)	6
b)	7
<b>Razem</b>	<b>13</b>









Punktacja:

<b>Część zadania</b>	<b>Maks.</b>
a)	2
b)	4
c)	2
d)	7
<b>Razem</b>	<b>15</b>

**Zadanie 3. Komunikacja w sieciach komputerowych. (12 pkt)**

Poniżej w tabeli przedstawiono przykłady zastosowań komunikacji poprzez sieci komputerowe (w tym Internet). Do realizacji tego typu zadań korzysta się wyłącznie z następujących narzędzi:

- 1) poczta elektroniczna,
- 2) umieszczenie danych w witrynie WWW,
- 3) chat,
- 4) lista dyskusyjna,
- 5) formularz WWW umożliwiający przesłanie danych do serwera,
- 6) umieszczenie danych w obszarze dostępnym poprzez protokół http, ale bez dostępu poprzez linki do nich (łącza) z innych witryn WWW.

Aby postawione zadania mogły być efektywnie zrealizowane, należy zastosować poniższe techniki przetwarzania i reprezentacji danych:

- i. szyfrowanie danych,
- ii. opatrzenie danych podpisem elektronicznym,
- iii. kompresję danych metodami specyficznymi dla typu danych,
- iv. kompresję danych metodami ogólnego stosowania.

Uzupełnij poniższą tabelę, wskazując, jakie narzędzia wykorzystasz do realizacji poszczególnych zadań. Podaj również, jakie techniki przetwarzania i reprezentacji danych trzeba zastosować (możliwy jest wybór więcej niż jednego narzędzia oraz techniki). Dla każdego przykładu podaj pod tabelą uzasadnienie, w jaki sposób i dlaczego będą one wykorzystywane?

Nr	Zadanie	Narzędzia	Technika przetwarzania i reprezentacji
a)	Wysyłanie zeznań podatkowych do urzędu skarbowego.		
b)	Przesyłanie poufnych informacji firmowych do odległego oddziału przedsiębiorstwa (np. do dyrektora oddziału).		
c)	Udostępnianie wszystkim zainteresowanym osobom danych multimedialnych: muzycznych, grafiki, wideo (z zachowaniem praw autorskich i licencyjnych).		
d)	Udostępnianie gronu kilku znajomych danych multimedialnych (własnego autorstwa): muzycznych, grafiki, wideo (nie ma potrzeby ochrony przed dostępem innych osób).		
e)	Zakupy przez Internet – składanie zamówień, realizacja płatności.		
f)	Udostępnianie przez CKE lub OKE wszystkim zainteresowanym pakietów danych stanowiących zestawy maturalne z ubiegłych lat (treści zadań, pliki z danymi, pliki z przykładowymi rozwiązaniami, teksty programów, itp.).		





## **BRUDNOPIS**